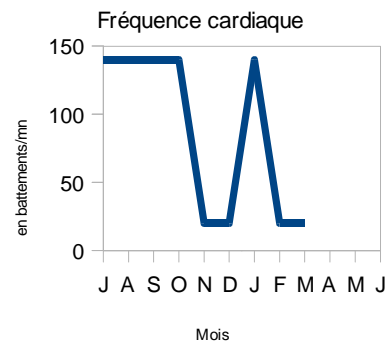
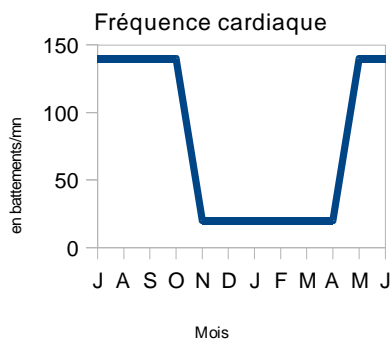
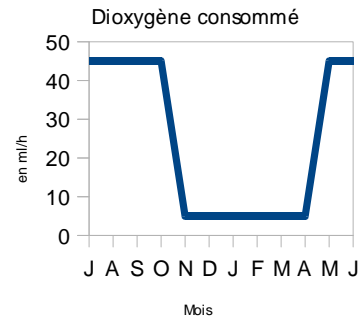
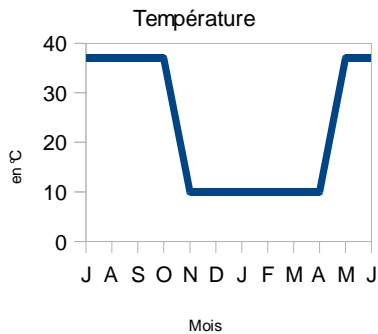
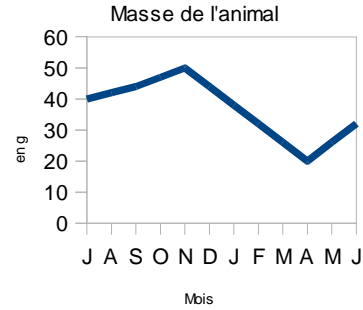
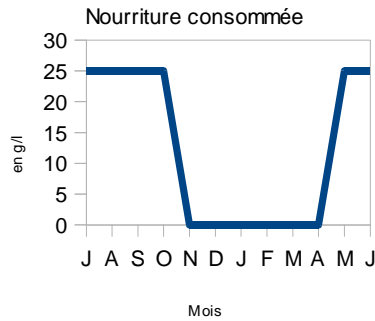




L'hibernation de la Chauve-souris



1°) Cite les cinq caractéristiques d'une chauve-souris qui est en hibernation (**S'informer**)

2°) Compare les deux derniers graphiques (**Raisonner**)

–En quoi sont-ils différents?

–Propose une explication

–Est ce que cette situation peut avoir des conséquences sur la chauve-souris?

–Termine la courbe (il y a deux possibilités)

